




# POKOLORUJ BALONIKI WEDŁUG WZORU





# Grafomotoryka



# Ćwiczenia grafomotoryczne

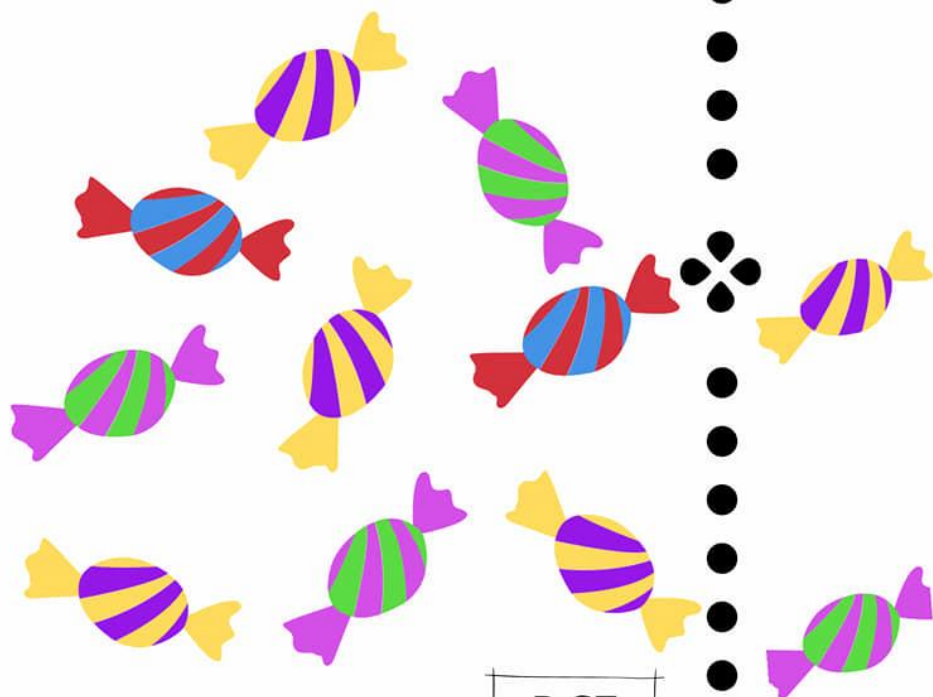


Połącz obrazek z jego cieniem.



R.SZ

Policz cukierki, w okienkach narysuj  
tyle kropek ile jest cukierków w danym  
kolorze.



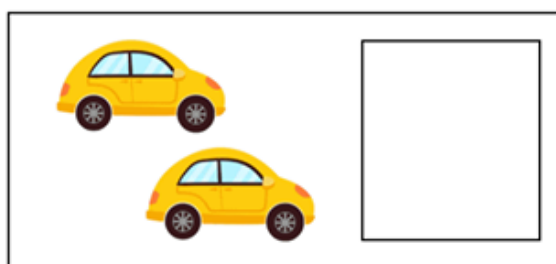

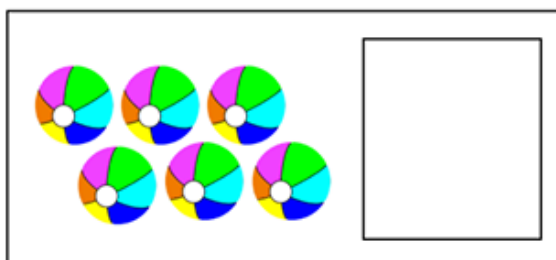
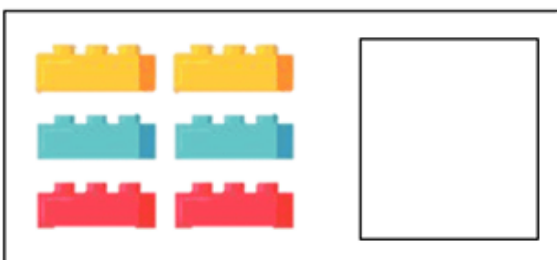
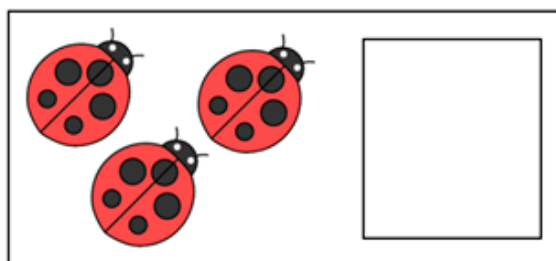

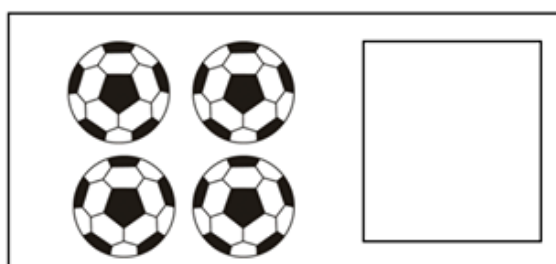

R.SZ

## Zadania matematyczne dla przedszkolaka

W tym zadaniu popełniono 15 błędów metodycznych. Czy potrafisz je wskazać?

### Liczenie do sześciu

Policz ile jest obiektów i wpisz właściwą cyfrę 1, 2, 3, 4, 5 lub 6.



## Zadania matematyczne dla przedszkolaka

W tym zadaniu popełniono kilka błędów metodycznych. Czy dostrzegasz je?



Pomóż żabce w dodawaniu.

$$5+2=$$

$$8+2=$$

$$2+2=$$

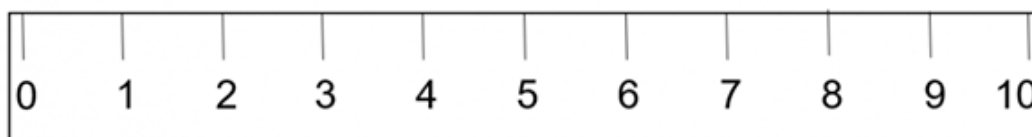
$$3+2=$$

$$1+2=$$

$$7+2=$$

$$4+2=$$

$$6+2=$$







1

1

1



2

2

2



3

3

3



4

4

4



5

5

5

$$\begin{array}{c} \text{apple} \\ \text{apple} \end{array} + \begin{array}{cc} \text{apple} & \text{apple} \\ \text{apple} & \text{apple} \end{array} =$$

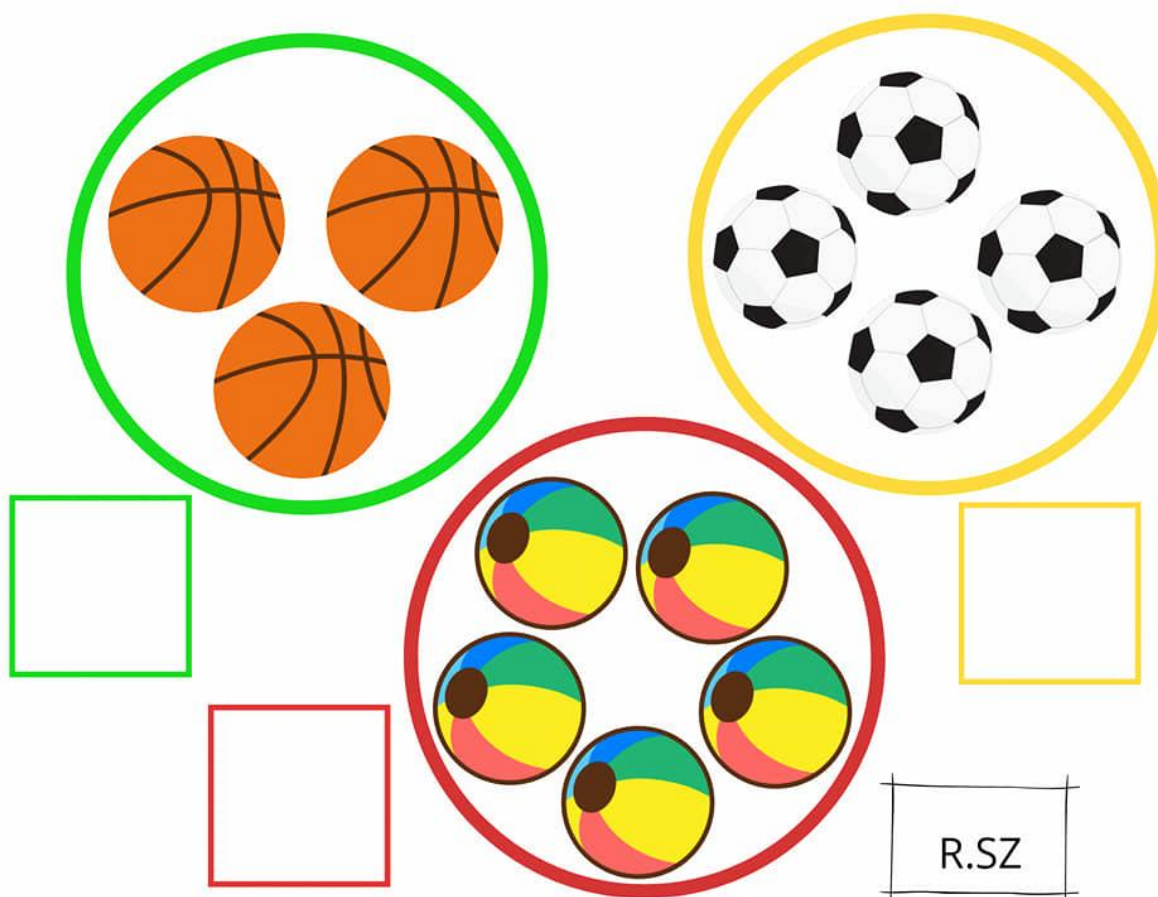
$$\begin{array}{cc} \text{apple} & \text{apple} \\ & \text{apple} \end{array} + \begin{array}{cc} \text{apple} & \text{apple} \\ \text{apple} & \text{apple} \end{array} =$$

$$\begin{array}{c} \text{apple} \\ \text{apple} \end{array} + \begin{array}{c} \text{apple} \\ \text{apple} & \text{apple} \end{array} =$$


$$\begin{array}{c} \text{apple} \\ \text{apple} & \text{apple} \end{array} + \begin{array}{c} \text{apple} \\ \text{apple} & \text{apple} \end{array} =$$

$$\text{apple} + \begin{array}{c} \text{apple} \\ \text{apple} \end{array} =$$

Narysuj w okienkach tyle kropek ile jest piłek w pętlach.



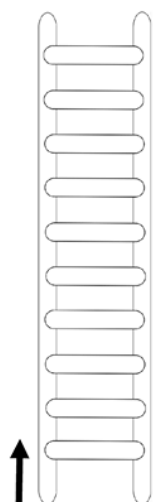
Policz i narysuj w okienkach tyle kropek ile jest obrazków danej grupy



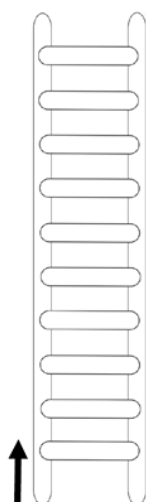
PIERWSZY, DRUGI, TRZECI...

 NAUCZYCIELSKIE ZACISZE

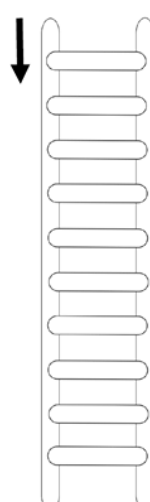
Pokoloruj szczeble na dowolny kolor. Strzałki wskazują, od której strony należy odliczać szczebelki.



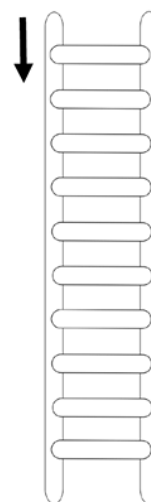
- ♥ trzeci
- ♥ szósty
- ♥ dziewiąty



- ♥ drugi
- ♥ czwarty
- ♥ szósty
- ♥ ósmy



- ♥ pierwszy
- ♥ piąty
- ♥ dziesiąty



- ♥ trzeci
- ♥ czwarty
- ♥ siódmy
- ♥ ósmy



G g

G G G G G G G G G G G G G G G

G G G G G G G G G G G G G G G

G G G G G G G G G G G G G G G

g g g g g g g g g g g g g g g g g

g g g g g g g g g g g g g g g g g

g g g g g g g g g g g g g g g g g

## Zadania matematyczne dla przedszkolaka

W tym zadaniu popełniono 15 błędów metodycznych. Czy potrafisz je wskazać?

### Liczenie do sześciu

Policz ile jest obiektów i wpisz właściwą cyfrę 1, 2, 3, 4, 5 lub 6.

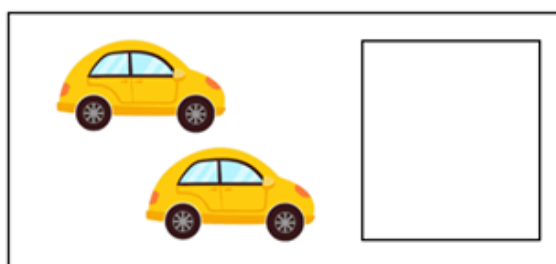

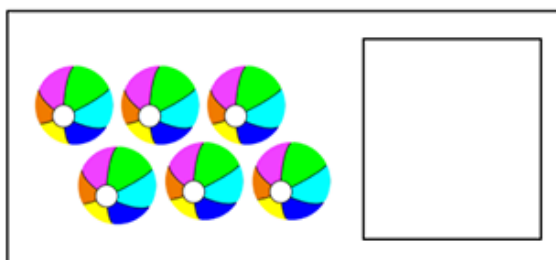
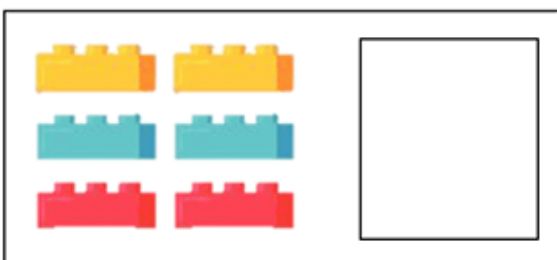
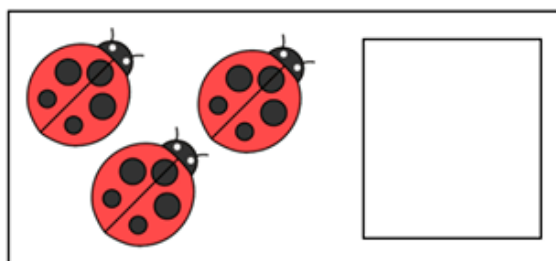

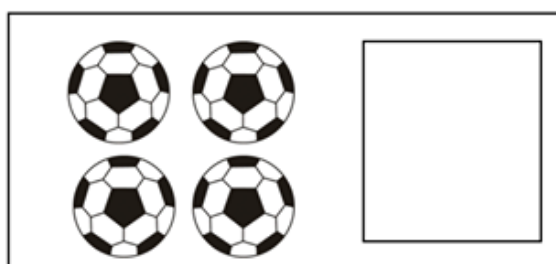







Image printed on [www.supercoloring.com](http://www.supercoloring.com) - for personal use only - reproduction is prohibited

## Zadania matematyczne dla przedszkolaka

W tym zadaniu popełniono kilka błędów metodycznych. Czy dostrzegasz je?



Pomóż żabce w dodawaniu.

$$5+2=$$

$$8+2=$$

$$2+2=$$

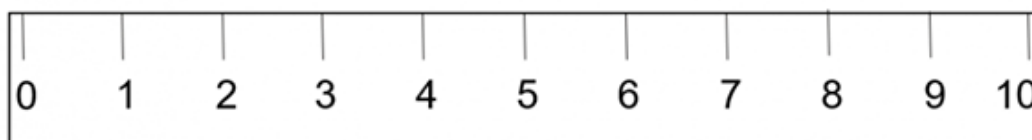
$$3+2=$$

$$1+2=$$

$$7+2=$$

$$4+2=$$

$$6+2=$$







1

1

1



2

2

2



3

3

3



4

4

4



5

5

5

$$\begin{array}{c} \text{apple} \\ \text{apple} \end{array} + \begin{array}{cc} \text{apple} & \text{apple} \\ \text{apple} & \text{apple} \end{array} =$$

$$\begin{array}{cc} \text{apple} & \text{apple} \\ & \text{apple} \end{array} + \begin{array}{cc} \text{apple} & \text{apple} \\ \text{apple} & \text{apple} \end{array} =$$

$$\begin{array}{c} \text{apple} \\ \text{apple} \end{array} + \begin{array}{c} \text{apple} \\ \text{apple} & \text{apple} \end{array} =$$


$$\begin{array}{c} \text{apple} \\ \text{apple} & \text{apple} \end{array} + \begin{array}{c} \text{apple} \\ \text{apple} & \text{apple} \end{array} =$$

$$\text{apple} + \begin{array}{c} \text{apple} \\ \text{apple} \end{array} =$$








*kreatywnie* **Z DZIECKIEM**  
— LECIBOCIAN.PL







*kreatywnie* **Z DZIECKIEM**  
— LECIBOCIAN.PL

